


Name _____

Klasse 3 _____

Datum _____

A

Mathematik-Test Nr. 5



1 Addiere. Setze das Aufgabenmuster fort.

6	0	5	6	1	7	6	2	9	6	4	1				
+	2	5	3	+	2	7	4	+	2	9	5	+			
_____			_____			_____			_____			_____			

/8 P.

2 Überprüfe durch Überschlagen. Kann das Ergebnis stimmen? Kreuze an.

a) $496 + 337 = \underline{833}$

b) $367 + 548 = \underline{815}$

c) $188 + 64 + 336 = \underline{788}$

Ü: _____

Ü: _____

Ü: _____

kann stimmen

kann stimmen

kann stimmen

kann nicht stimmen

kann nicht stimmen

kann nicht stimmen

/6 P.

3 Die Karlschule hat noch 246 € Büchergeld.

Für Bücher bekommt sie von den Eltern noch 350 € und von der Stadt 85 €.


Frage: _____

Antwort: _____

/4 P.

4 Schätze das Gewicht. Verbinde.

- 1 g
- 50 g
- 100 g
- 3 kg
- 400 g
- 28 kg
- 1 kg



/7 P.

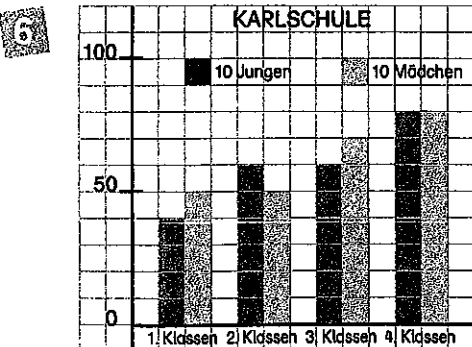
5 a) $200 \text{ g} + \underline{\quad} \text{ g} = 1 \text{ kg}$ b) $155 \text{ g} + \underline{\quad} \text{ g} = 1 \text{ kg}$ c) $280 \text{ g} + \underline{\quad} \text{ g} = \frac{1}{2} \text{ kg}$

$150 \text{ g} + \underline{\quad} \text{ g} = 1 \text{ kg}$

$50 \text{ g} + \underline{\quad} \text{ g} = 1 \text{ kg}$

$175 \text{ g} + \underline{\quad} \text{ g} = \frac{1}{2} \text{ kg}$

/6 P.



Schreibe die Zahlen für die Karlschule auf.

	Jungen	Mädchen	gesamt
1. Klassen			90
2. Klassen			
3. Klassen			
4. Klassen			
gesamt			

/4 P.

1	2	3	4	5	6	8
---	---	---	---	---	---	---

Notz:

/35 P.