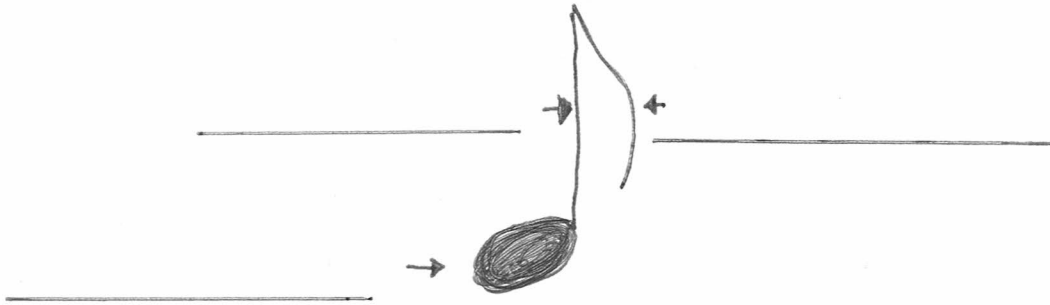


Name: _____

Klasse: _____

Notenwerte

Aufgabe A: Setze ein: Notenhals Notenkopf Fähnchen



Name der Note	Aussehen	Dauer der Schläge
ganze Note		1 2 3 4
halbe Note		1 2
Viertelnote		1
Achtelnote		1/2

Aufgabe B: Welche anderen Notenwerte kannst du einsetzen? (Es gibt mehrere Möglichkeiten)

(Beispiel) $\text{O} = \underline{\text{♪ ♪}}$

a) $\text{♪} = \underline{\hspace{2cm}}$

c) $\text{O O} = \underline{\hspace{2cm}}$


e) $\text{♪ ♪ ♪} = \underline{\hspace{2cm}}$


b) $\text{O} = \underline{\hspace{2cm}}$


d) $\text{♪ ♪} = \underline{\hspace{2cm}}$


f) $\text{♪ ♪ ♪ ♪} = \underline{\hspace{2cm}}$


Aufgabe C: Schreibe die Schläge unter die Noten


a) 

b) 

c) 

d) 

e) 


f) 


Aufgabe D: Trage die Taktart ein und ergänze die Taktstriche.

(Beispiel)



a) 

b) 

c) 

d) 