

Name: _____

Klasse: _____

Notensystem und Notennamen

The diagram shows a piano keyboard divided into four sections. Below the keyboard, the notes are labeled with their German names: C D E F G A H, c d e f g a h, c1 d1 e1 f1 g1 a1 h1, and c2 d2 e2 f2 g2 a2 h2 c3. Below the keyboard, two musical staves are shown: a treble clef staff and a bass clef staff. The notes are plotted on these staves, showing the progression of octaves. Below the staves, four labels identify the octaves: große Oktave, kleine Oktave, eingestrichene Oktave, and zweigestrichene Oktave.

Versetzungszeichen

Das Kreuz erhöht die Noten um einen Halbtonschritt. Die Endung ist –is.


b Das Be erniedrigt die Noten um einen Halbtonschritt.

Die Endung ist –es (Ausnahmen: h-b, a-as, e-es)


cis dis fis gis ais cis dis fis gis ais
 des es ges as b des es ges as b

The diagram shows a piano keyboard with the notes c, d, e, f, g, a, h labeled below it. The notes are arranged in a sequence of four groups: c d e, f g a, c d e, f g a, h.


Aufgabe A: C-Dur-Tonleiter (Eingestrichene Oktave im Violinschlüssel: von c' bis h')



Aufgabe B: Schreibe Notennamen auf dem Klavier



Aufgabe C: Übung Notennamen im Violinschlüssel



d1 h1 c1 f1 g1 c2 e1 a1

